

Exam Date	Exam Time	Version
20 Dec 2020	10 AM to 12 PM	B

Answer Key

1	B	31	C	61	C	91	D	121	B
2	C	32	B	62	C	92	B	122	B
3	D	33	D	63	B	93	B	123	D
4	B	34	A	64	A	94	B	124	C
5	B	35	C	65	B	95	D	125	D
6	A	36	B	66	B	96	D	126	C
7	A	37	D	67	C	97	B	127	D
8	A	38	A	68	A	98	D	128	A
9	C	39	D	69	C	99	C	129	B
10	B	40	C	70	A	100	B	130	B
11	D	41	A	71	D	101	A	131	A
12	A	42	A	72	C	102	C	132	D
13	D	43	B	73	C	103	D	133	B
14	C	44	C	74	D	104	C	134	C
15	B	45	D	75	D	105	C	135	C
16	B	46	D	76	A	106	D	136	C
17	A	47	B	77	D	107	A	137	D
18	B	48	D	78	A	108	A	138	B
19	C	49	B	79	B	109	D	139	B
20	D	50	A	80	A	110	B	140	C
21	C	51	D	81	C	111	D	141	C
22	A	52	C	82	A	112	C	142	B
23	C	53	A	83	C	113	B	143	A
24	A	54	B	84	C	114	D	144	C
25	B	55	A	85	C	115	A	145	B
26	C	56	D	86	A	116	B	146	A
27	D	57	A	87	C	117	C	147	B
28	D	58	C	88	C	118	D	148	C
29	A	59	C	89	C	119	B	149	B
30	C	60	A	90	C	120	C	150	C

Section 1 - General Hindi

1) किस वर्ष साहित्य अकादमी पुरस्कार नहीं दिया गया?

- A) सन् 1955
B) सन् 1962
C) सन् 1965
D) सन् 2000

C) इस

D) उस

2) निम्नलिखित में से कौन-सा विकल्प शब्द और उनके विलोम शब्द की सही जोड़ी नहीं है?

- A) राग - विराग
B) व्यष्टि - समष्टि
C) बच्चा - जवान
D) उत्तम - अधम

6) सन् 2019 में 'व्यास सम्मान' किसे प्रदान किया गया?

- A) नासिरा शर्मा
B) लीलाधर जगूडी
C) ममता कालिया
D) नरेन्द्र कोहली

3) निम्न में से कौन-सा कवि भारतेन्दु युगीन नहीं है?

- A) बद्रीनारायण चौधरी 'प्रेमघन'
B) ठाकुर जगमोहन सिंह
C) पंडित अंबिकादत्त व्यास
D) श्रीधर पाठक

7) निम्नलिखित में कौन-सा शब्द तत्सम है?

- A) उज्ज्वल
B) इकट्ठा
C) कँवल
D) उपरोक्त

4) 'पयोधि', 'सिंधु', 'वारीश' किसके पर्यायवाची शब्द हैं?

- A) मेघ
B) समुद्र
C) नदी
D) गंगा

8) वाक्य में काम करने वाले को क्या कहते हैं?

- A) कर्ता
B) करण
C) कर्म
D) क्रिया

5) निम्नलिखित वाक्य में आए खाली स्थान के लिए सही शब्द चुनिए -

अभिषेक _____ घर चला गया।

- A) किसके
B) अपने-आप

9) निम्नलिखित वाक्य में आए खाली स्थान के लिए सही शब्द चुनिए -

गिलास _____ तोड़ा?

- A) तुमने
B) उसने
C) किसने
D) इसने

- 10) पुरुषोत्तम अग्रवाल को उनकी किस रचना के लिए 'देवीशंकर अवस्थी स्मृति सम्मान' प्रदान किया गया?
- A) विचार का अनंत
B) तीसरा रुख
C) संस्कृति : वर्चस्व और प्रतिरोध
D) अकथ कहानी प्रेम की : कबीर की कविता और उनका समय

- 11) लोकोक्ति और उनके सही अर्थ वाले जोड़े के विकल्प की पहचान कीजिए।

A	B
1. चित्त भी मेरी पट भी मेरी	a. दोनों ओर से लाभ चाहता
2. चोर की दाढ़ी में तिनका	b. अपराधी भयभीत रहता है
3. नाच न जाने आँगन देड़ा	c. अयोग्यता का दोष दूसरों को देना
4. नेक्री कर दरिया में डाल	d. भला करके भूल जाना चाहिए

- A) 1-d,2-c,3-b,4-a
B) 1-c,2-a,3-b,4-d
C) 1-b,2-a,3-c,4-d
D) 1-a,2-b,3-c,4-d

- 12) 'निंदा' का विलोम शब्द है -

- A) स्तुति
B) राग
C) द्वेष
D) सम्मान

- 13) भारतीय संविधान में 22 भाषाओं को आधिकारिक भाषा का दर्जा दिया गया है, जिनमें यह भाषा शामिल नहीं है?

- A) मैथिली
B) मणिपुरी
C) बोडो
D) भोजपुरी

- 14) जिस पर क्रिया का प्रभाव पड़े, उसे क्या कहते हैं?
- A) कर्ता
B) करण
C) कर्म
D) अपादान

- 15) निम्नलिखित वाक्यांश में अपादान कारक प्रयुक्त हुआ है

- A) श्याम का घर
B) पेड़ से गिर पड़ा
C) कुर्सी के नीचे
D) आरी से काटो

- 16) निम्नलिखित में से सही वाक्य की पहचान कीजिए।

- A) मैं रविवार के दिन तुम्हारे घर आऊँगा।
B) मैं रविवार को तुम्हारे घर आऊँगा।
C) मैं रविवार को तुम्हारे घर को आऊँगा।
D) मैं रविवार दिन को तुम्हारे घर आऊँगा।

- 17) निम्नलिखित में से सही वाक्य की पहचान कीजिए।

- A) वह क्या जाने कि मैं कैसे जी रहा हूँ।
B) वह कैसे जानें कि क्या मैं जी रहा हूँ।
C) वह क्या जानें कि मैं कैसे जी रहा हूँ।
D) वे क्या जाने कि मैं कैसे जी रहा है।

- 18) 'विरोधी पक्ष का' वाक्यांश के लिए एक सार्थक शब्द कौन-सा है?

- A) पक्षपाती
B) विपक्षी
C) पक्षघाती
D) द्विपक्षी

19) "वधूत्सव" का संधि विच्छेद रूप क्या है?

- A) वद+उत्सव
- B) वध+उत्सव
- C) वधू+उत्सव
- D) वधो+उत्सव

- C) खुश होना
- D) कार्य सिद्ध होना

20) निम्नलिखित में से कौन-सा संधि विच्छेद का एक गलत उदाहरण है?

- A) महा+ओज
- B) पौ+अक
- C) नौ+इक
- D) परो+उपकार

24) 'अवधी बोली' का अन्य नाम है -

- A) कोसली
- B) बनाफरी
- C) बैगानी
- D) मघेसी

21) निम्नलिखित में कौन-सा तत्सम-तद्भव जोड़ी का सही विकल्प नहीं है?

- A) सूत्र - सूत
- B) हस्त - हाथ
- C) चक्र - गोला
- D) ग्राहक - गाहक

25) निम्न उपन्यासों में कौन-सा मृदुला गर्ग द्वारा रचित नहीं है?

- A) उसके हिस्से की धूप
- B) रुकोगी नहीं राधिका
- C) चित्त कोबरा
- D) मैं और मैं

22) सुधी, मनीषी, बुध निम्नलिखित में से किसके पर्यायवाची शब्द हैं?

- A) पंडित
- B) धनी
- C) पति
- D) गुरु

26) निम्न में से किस साहित्यकार को 'प्रेमचंद की कहानियों का काल-क्रमानुसार अध्ययन' के लिए 'व्यास सम्मान' प्रदान किया गया है?

- A) गोपेश्वर सिंह
- B) वीरभारत तलवार
- C) कमल किशोर गोयनका
- D) वीरेंद्र यादव

23) 'बाग-बाग होना' मुहावरे का सही अर्थ होगा -

- A) आसान काम
- B) हरियाली छाना

27) निम्नलिखित में कौन-सा 'असुर' का पर्यायवाची शब्द नहीं है?

- A) निशिचर
- B) दनुज
- C) राक्षस
- D) महाकाय

28) निम्नलिखित में तद्भव शब्द कौन-सा है?

- A) विकार
- B) दंड
- C) कोकिला
- D) नींद

29) इनमें से 'जो पहले कभी न हुआ हो' को व्यक्त करने वाला कौन-सा एक शब्द है?

- A) अभूतपूर्व
- B) भूतपूर्व
- C) अनादी
- D) अद्वितीय

30) मार्तण्ड, अर्क, अंशुमाली निम्नलिखित में से किसके पर्यायवाची शब्द हैं?

- A) रोशनी
- B) चन्द्र
- C) सूर्य
- D) रेखा

31) 'मैं भंगी हूँ' आत्मकथा के लेखक हैं?

- A) सूरजपाल चौहान
- B) मोहनदास नैमिशराय
- C) भगवान दास
- D) ओमप्रकाश वाल्मीकि

32) 'मलबे का मालिक' कहानी के कहानीकार हैं -

- A) राजेंद्र यादव
- B) मोहन राकेश
- C) कमलेश्वर
- D) निर्मल वर्मा

33 – 37 प्रश्नों के लिए निर्देश:

निम्नलिखित अनुच्छेद को पढ़कर उसके नीचे दिये गये प्रश्नों के उत्तर दीजिए-

हमारे यहाँ के विद्वान पुनर्जागरण पर ही इतना अधिक ध्यान देते हैं कि यदि हम उसे पढ़ें तो अतीत के विषय में जानने की हमारी लालसा और बढ़ जाती है। हमें यह अनुभव कराया गया कि संपूर्ण भारत रामकृष्ण, विवेकानंद और दयानंद जैसे महापुरुषों की मंडली है। हमें यह भी अनुभव कराया गया कि औरतों की दशा बहुत अच्छी थी और जातीयता को प्राणघातक मान लिया गया था। इसके अलावा कुछ दूसरी चीजें भी उस दौरान घटित हुई, जिसके बारे में हम बात नहीं करते। एक हिंदी भाषी प्रांत में दयानंद को जूतों की माला से स्वागत किया गया था। जब 'आर्यसमाज' और 'ब्रह्मसमाज' मौजूद था, उसी समय 'सनातन धर्म सभा' और 'भारत धर्मसभा' भी स्थापित हुआ। दयानंद शास्त्रार्थ में हरा दिये गये। कट्टरपंथी और रूढ़िवादी लोगों ने नये विचारों का विरोध किया। बाद में ब्रह्मसमाज भी अत्यधिक पुरातनपंथी हो गया। राजा राममोहन राय के बारे में कहा जाता है कि जब वे मृत्युशय्या पर थे तो उन्हें भागीरथी के तट पर लाया गया। उनके चारों तरफ खड़े लोगों ने उनसे पूछा कि वे लोग उनके लिए क्या कर सकते हैं? तो उन्होंने अपने पूरे शरीर पर राधाकृष्ण लिखने को कहा। जिन लोगों ने धार्मिक सुधार के लिए विद्रोह किया वे अत्यधिक पुरातनपंथी निकले। आंदोलन के अंतिम दिनों में ब्रह्मसमाज के अनुयायी हठधर्मी हो गए थे। बाद में बहुत सारे ब्रह्मसमाजी कम्युनिस्ट और मार्क्सवादी हो गए।

33) अतीत के विषय में जानने की लालसा कब और बढ़ जाती है?

- A) ब्रह्मसमाज के विचारों को पढ़कर
- B) आर्यसमाज के विचारों को पढ़कर
- C) विवेकानंद के विचारों को पढ़कर
- D) भारतीय विद्वानों के पुनर्जागरण संबंधी विचारों को पढ़कर

34) जूतों की माला से किसका स्वागत किया गया था?

- A) दयानंद
- B) विवेकानंद
- C) राममोहन राय
- D) रामकृष्ण परमहंस

35) बाद में कौन-सी संस्था अत्यधिक पुरातनपंथी हो गयी?

- A) सनातन धर्म सभा
- B) रामकृष्ण परमहंस मिशन
- C) ब्रह्मसमाज
- D) भारत धर्मसभा

36) ब्रह्मसमाज के संदर्भ में असत्य कथन है -

- A) बाद में बहुत सारे ब्रह्मसमाजी मार्क्सवादी हो गए थे।
- B) ब्रह्मसमाज की स्थापना दयानंद सरस्वती ने किया था।
- C) बाद में ब्रह्मसमाज भी अत्यधिक पुरातनपंथी हो गया।
- D) अंतिम दिनों में ब्रह्मसमाज के अनुयायी हठधर्मी हो गये थे।

37) निम्न में कौन-सा विद्वान शास्त्रार्थ में हरा दिया गया था?

- A) विवेकानंद
- B) रामकृष्ण परमहंस
- C) राममोहन राय
- D) दयानंद

Section 2 - General Awareness

- 38) How much time does an average user spend on social media per day in the globe as per GlobalWebIndex Report 2020?
- A) 144 minutes per day
B) 110 minutes per day
C) 100 minutes per day
D) 162 minutes per day
- 38) ग्लोबल वेब इंडेक्स 2020 के अनुसार दुनिया में औसत उपयोगकर्ता प्रति दिन सोशल मीडिया पर कितना समय व्यतीत करता है?
- A) 144 मिनट प्रति दिन
B) 110 मिनट प्रति दिन
C) 100 मिनट प्रति दिन
D) 162 मिनट प्रति दिन
-
- 39) China's Great Wall Motor Company signs MoU with which Indian State Government to invest \$1 billion in the state?
- A) Rajasthan
B) Punjab
C) Gujarat
D) Maharashtra
- 39) चीन की ग्रेट वॉल मोटर कंपनी ने भारत के किस राज्य सरकार के साथ, \$1 बिलियन निवेश करने के लिए समझौता ज्ञापन (MoU) पर हस्ताक्षर किया है?
- A) राजस्थान
B) पंजाब
C) गुजरात
D) महाराष्ट्र
-
- 40) Grammy Awards are presented for contribution in which of the following fields?
- A) Sports
B) Literature
C) Music
D) Medicine
- 40) ग्रेमी अवार्ड्स निम्नलिखित में से किस क्षेत्र में योगदान के लिए प्रदान किए जाते हैं?
- A) खेल
B) साहित्य
C) संगीत
D) औषधि

41) Which of the following statements is TRUE ..?

- A) After 1947, the Judicial wing of the Board continued to function at Allahabad, the administrative wing was shifted to Lucknow
- B) After 1947, the administrative wing of the Board continued to function at Allahabad, the Judicial wing was shifted to Lucknow
- C) After 1947, both the wings, the Judicial wing and the administrative wing of the Board continued to function at Allahabad
- D) After 1947, both the wings, the Judicial wing and the administrative wing of the Board shifted to Lucknow

41) निम्नलिखित में से कौन सा कथन सही है..?

- A) 1947 के बाद, बोर्ड का न्यायिक विंग इलाहाबाद में कार्य करता रहा, प्रशासनिक विंग को लखनऊ स्थानांतरित कर दिया गया
- B) 1947 के बाद, बोर्ड का प्रशासनिक विंग इलाहाबाद में कार्य करता रहा, न्यायिक विंग को लखनऊ स्थानांतरित कर दिया गया
- C) 1947 के बाद, बोर्ड के न्यायिक विंग और प्रशासनिक विंग दोनों, इलाहाबाद में कार्य करते रहे
- D) 1947 के बाद, बोर्ड का न्यायिक विंग और प्रशासनिक विंग दोनों, को लखनऊ स्थानांतरित कर दिया गया

42) Which of the following living beings have compound eyes?

- A) Dragon fly
- B) Pigeon
- C) Frog
- D) Tuna fish

42) निम्नलिखित जीवों में से किसकी यौगिक (कंपाउंड) आँखें होती हैं?

- A) ड्रेगन मक्खी
- B) कबूतर
- C) मेंढक
- D) टूना मछली

43) 'Prime Minister's Police Medal for Life Saving', is awarded by-

- A) Ministry of Home Affairs
- B) Intelligence Bureau
- C) Bureau of Police Research and Development
- D) The Indian Police Foundation

43) निम्नलिखित में से किसके द्वारा 'जीवन रक्षा के लिए प्रधानमंत्री का पुलिस पदक' प्रदान किया जाता है ?

- A) गृह मंत्रालय
- B) इंटेलिजेंस ब्यूरो
- C) पुलिस अनुसंधान एवं विकास ब्यूरो
- D) द इंडियन पुलिस फाउंडेशन

44) Which of the following forces is one of the important agencies of the Government of India involved in the successful conduct of the annual Kailash Mansarovar Yatra since 1982?

- A) Assam Rifles (AR)
- B) Central Reserve Police Force (CRPF)
- C) Indo-Tibetan Border Police Force (ITBP)
- D) Home Guards

44) निम्नलिखित में से कौन सी सेना जो भारत सरकार की महत्वपूर्ण एजेंसियों में से है, 1982 से वार्षिक कैलाश मानसरोवर यात्रा के सफल संचालन में शामिल होती रही है?

- A) असम राइफल्स (AR)
- B) केंद्रीय रिज़र्व पुलिस बल (CRPF)
- C) भारत-तिब्बत सीमा पुलिस बल (ITBP)
- D) होम गार्ड्स

45) Which of the following is the specialised wing of the CRPF that was set up to deal with riots and riot like situations?

- A) Central Industrial Security Force (CISF)
- B) National Security Guard (NSG)
- C) Home Guards
- D) Rapid Action Force

45) CRPF का निम्नलिखित में से वह कौन सा विशेष विंग है जो दंगों और दंगों जैसी स्थितियों से निपटने के लिए बनाया गया था?

- A) केंद्रीय औद्योगिक सुरक्षा बल (CISF)
- B) राष्ट्रीय सुरक्षा गार्ड (NSG)
- C) होम गार्ड्स
- D) रैपिड एक्शन फोर्स

46) Swaminarayan Akshardham is a Hindu Temple complex situated in which of the following places of India?

- A) Pune
- B) Bengaluru
- C) Mumbai
- D) Delhi

46) स्वामीनारायण अक्षरधाम एक हिंदू मंदिर परिसर है जो भारत के निम्नलिखित स्थानों में से कहां स्थित है?

- A) पुणे
- B) बेंगलुरु
- C) मुंबई
- D) दिल्ली

47) Quit India Movement 1942 was fought in Jharkhand under the leadership of which leader?

- A) Jaipal Singh
- B) Choona Ram Mehto
- C) Ramnath Soren
- D) Ram Bhagat

47) भारत छोड़ो आन्दोलन 1942 झारखंड में किस नेता के नेतृत्व में लड़ा गया था?

- A) जैपाल सिंह
- B) चूना राम महतो
- C) रामनाथ सोरेन
- D) राम भगत

48) Which among the following rivers of India derived its name from the Sanskrit word "Lavanavari" that means salt river?

- A) Chambal
- B) Banas
- C) Mahi
- D) Luni

48) भारत की निम्नलिखित नदियों में से किसका नाम संस्कृत शब्द "लवणावरी" से लिया गया है जिसका अर्थ है नमकीन नदी?

- A) चंबल
- B) बनास
- C) माही
- D) लूणी

49) Which of the following mountain passes is located in the Uttarakhand State of India?

- A) Kongka Pass
- B) Lipulekh Pass
- C) Khardung Pass
- D) Lanak Pass

49) निम्नलिखित में से कौन सा पर्वत दर्रा भारत के उत्तराखंड राज्य में स्थित है?

- A) कोंगका दर्रा
- B) लिपुलेख दर्रा
- C) खारदोंग दर्रा
- D) लनक दर्रा

50) Which of the following launch vehicles was used in mission Chandrayaan-2?

- A) GSLV MkIII
- B) PSLV C11
- C) GSLV F11
- D) PSLV C45

50) निम्नलिखित में से कौन सा लॉन्च वाहन मिशन चंद्रयान-2 में उपयोग किया गया था?

- A) GSLV MkIII
- B) PSLV C11
- C) GSLV F11
- D) PSLV C45

51) Which among the following countries has built the world's first floating nuclear plant?

- A) India
- B) China
- C) USA
- D) Russia

51) निम्नलिखित में से किस देश ने दुनिया का प्रथम तैरता हुआ परमाणु संयंत्र बनाया है?

- A) भारत
- B) चीन
- C) अमेरिका
- D) रूस

- 52) Addition of salts facilitates melting of ice during winter, as it-
- A) Increases the freezing point of water on the surface of ice
- B) Lowers the freezing point of water present deep inside ice
- C) Lowers the freezing point of water on the surface of ice
- D) Increases the kinetic energy of the water molecules which generates heat
- 52) सर्दियों के दौरान बर्फ में नमक डालने से बर्फ पिघलने लगती है, क्योंकि?
- A) बर्फ की सतह पर पानी के हिमांक बिंदु को बढ़ाता है
- B) बर्फ के गहरे अंदर मौजूद पानी के हिमांक बिंदु को कम करता है
- C) बर्फ की सतह पर पानी के हिमांक बिंदु को कम करता है
- D) ऊष्मा उत्पन्न करने वाले पानी के अणुओं की गतिज ऊर्जा को बढ़ाता है
-
- 53) Where is the Central Institute for Research on Cotton Technology located?
- A) Mumbai
- B) Nagpur
- C) Delhi
- D) Jaipur
- 53) कपास प्रौद्योगिकी पर अनुसंधान के लिए केंद्रीय संस्थान कहाँ स्थित है?
- A) मुंबई
- B) नागपुर
- C) दिल्ली
- D) जयपुर
-
- 54) Read the following statements and choose the CORRECT option.
- (i) The chola dynasty was a Tamil dynasty that ruled primarily in southern India until the 13th century.
- (ii) This chola dynasty originated in the rich ganga river valley.
- 54) निम्नलिखित कथनों को पढ़ें और सही विकल्प चुनें।
- (i) चोल वंश एक तमिल राजवंश था जिसने 13 वीं शताब्दी तक मुख्य रूप से दक्षिण भारत में शासन किया था।
- (ii) यह चोल वंश समृद्ध गंगा नदी घाटी में उत्पन्न हुआ था।
- A) (i) सही है और (ii) सही है
- B) (i) सही है और (ii) गलत है
- C) (i) गलत है और (ii) सही है
- D) (i) गलत है और (ii) गलत है
- A) (i) is TRUE and (ii) is TRUE
- B) (i) is TRUE and (ii) is FALSE
- C) (i) is FALSE and (ii) is TRUE
- D) (i) is FALSE and (ii) is FALSE

-
- 55) Who among the following appoints the Prime Minister of India?
- A) President of India
B) Chief Election Commissioner of India
C) Comptroller and Auditor General of India
D) Chief Justice of India
-
- 56) How many members are there in the National Human Rights Commission (NHRC)?
- A) 2
B) 4
C) 8
D) 9
-
- 57) For administrative convenience, how many divisions are present in the state of Uttar Pradesh?
- A) 18
B) 22
C) 28
D) 14
-
- 58) What is the Chinese currency called?
- A) Dollar
B) Rupee
C) Renminbi
D) Pound
-
- 55) निम्नलिखित में से कौन भारत के प्रधान मंत्री की नियुक्ति करता है?
- A) भारत के राष्ट्रपति
B) भारत के मुख्य चुनाव आयुक्त
C) भारत के नियंत्रक और महालेखा परीक्षक
D) भारत के मुख्य न्यायाधीश
-
- 56) राष्ट्रीय मानवाधिकार आयोग (NHRC) में कितने सदस्य होते हैं?
- A) 2
B) 4
C) 8
D) 9
-
- 57) प्रशासनिक सुविधा के लिए, उत्तर प्रदेश राज्य में कितने मंडल मौजूद हैं?
- A) 18
B) 22
C) 28
D) 14
-
- 58) चीनी मुद्रा को क्या कहा जाता है?
- A) डॉलर
B) रुपया
C) रेन्मिन्बी
D) पाउन्ड

- 59) Which chemical is responsible for the green colour in firework displays?
- A) Strontium carbonate
B) Sodium nitrate
C) Barium chloride
D) Copper chloride
-
- 60) Which of the following term is related to an unsolicited email?
- A) Spam
B) News group
C) Backbone
D) Updates
-
- 61) In the Government of India, during January 2020, the Minister of Commerce and Industry is
- A) Smt. Nirmala Sitharaman
B) Shri Dharmendra Pradhan
C) Shri Piyush Goyal
D) Shri Prakash Javadekar
-
- 62) How many trophies will be presented to the winner of the 'Best Police Training Institutions' of the CAPFs/CPOs every year? (Abbreviations carry their usual meaning)
- A) 5
B) 2
C) 3
D) 4
- 59) कौन सा रसायन, आतिशबाजी प्रदर्शित करते समय हरे रंग के लिए जिम्मेदार है?
- A) स्ट्रॉन्शियम कार्बोनेट
B) सोडियम नाइट्रेट
C) बेरियम क्लोराइड
D) कॉपर क्लोराइड
-
- 60) निम्नलिखित में से कौन सा शब्द, अनचाहे ईमेल से संबंधित है?
- A) स्पैम
B) न्यूज़ ग्रुप
C) बैकबोन
D) अपडेट्स
-
- 61) भारत सरकार में, जनवरी 2020 के दौरान, वाणिज्य और उद्योग मंत्री कौन रहे थे?
- A) श्रीमती निर्मला सीतारमण
B) श्री धर्मेन्द्र प्रधान
C) श्री पीयूष गोयल
D) श्री प्रकाश जावड़ेकर
-
- 62) CAPFs/CPO के 'सर्वश्रेष्ठ पुलिस प्रशिक्षण संस्थानों' के विजेता को प्रति वर्ष कितनी ट्रॉफियां प्रदान की जाती है ? (संक्षिप्त रूप अपने सामान्य अर्थ में प्रयोग किए गए हैं)
- A) 5
B) 2
C) 3
D) 4

63) Which of the following is the most recent core international human rights treaties that entered into force during 2010?

- A) Committee on the Rights of Persons with Disabilities
- B) Committee on Enforced Disappearances
- C) Committee on Migrant Workers
- D) Committee on the Elimination of Discrimination against Women

63) 2010 के दौरान लागू हुई नवीनतम कोर अंतर्राष्ट्रीय मानवाधिकार संधि निम्नलिखित में से कौन सी है?

- A) विकलांग व्यक्तियों के अधिकारों पर समिति
- B) एन्फोर्सड डिसएप्पीयरेंसेंस पर समिति
- C) प्रवासी श्रमिकों पर समिति
- D) महिलाओं के विरुद्ध भेदभाव के उन्मूलन पर समिति

64) What is the currency of Armenia called?

- A) Dram
- B) Gram
- C) Dollar
- D) Rupee

64) आर्मेनिया की मुद्रा को क्या कहा जाता है?

- A) ड्राम
- B) ग्राम
- C) डॉलर
- D) रुपया

65) India has chosen the dual model of GST from which country?

- A) UK
- B) Canada
- C) USA
- D) Japan

65) भारत ने जी एस टी (GST) के दोहरे मॉडल को किस देश से चुना है?

- A) यू के
- B) कनाडा
- C) अमेरिका
- D) जापान

66) Which of the following dates is observed as an International Day of Peace?

- A) 15th September
- B) 21st September
- C) 2nd September
- D) 28th September

66) निम्नलिखित में से किस तारीख को अंतर्राष्ट्रीय शांति दिवस के रूप में मनाया जाता है?

- A) 15 सितंबर
- B) 21 सितंबर
- C) 2 सितंबर
- D) 28 सितंबर

67) Match the officials during the reign of emperor Akbar in List I with their corresponding duties assigned in List II.

List I	List II
(a) Wazir	(i) In charge of the imperial household
(b) Mir Bakshi	(ii) Head of judicial department
(c) Mir Saman	(iii) Head of the military department
(d) Chief Qazi	(iv) Head of the revenue department

- A) (a)-(ii), (b)-(i), (c)-(iv), (d)-(iii)
 B) (a)-(ii), (b)-(iii), (c)-(iv), (d)-(i)
 C) (a)-(iv), (b)-(iii), (c)-(i), (d)-(ii)
 D) (a)-(iii), (b)-(ii), (c)-(iv), (d)-(i)

68) What do you mean by 'chakbandi'?

- A) Consolidation of land
 B) Consolidation of property
 C) Consolidation of family
 D) Consolidation of tax

69) What is the size of a 2000 rupee note in Indian currency?

- A) 55mm × 160mm
 B) 60mm × 166mm
 C) 66mm × 166 mm
 D) 66mm × 160 mm

67) सूची I में दिए गए अकबर के शासनकाल के निम्नलिखित अधिकारियों का सूची II में दिए गए उनके संबंधित कर्तव्यों से मिलान करें।

सूची I	सूची II
(a) वजीर	(i) शाही परिवार का प्रभारी
(b) मीर बक्शी	(ii) न्यायिक विभाग का प्रमुख
(c) मीर समन	(iii) सैन्य विभाग का प्रमुख
(d) प्रमुख काजी	(iv) राजस्व विभाग का प्रमुख

- A) (a)-(ii), (b)-(i), (c)-(iv), (d)-(iii)
 B) (a)-(ii), (b)-(iii), (c)-(iv), (d)-(i)
 C) (a)-(iv), (b)-(iii), (c)-(i), (d)-(ii)
 D) (a)-(iii), (b)-(ii), (c)-(iv), (d)-(i)

68) 'चकबन्दी' से आपका क्या अभिप्राय है?

- A) भूमि का एकीकरण
 B) संपत्ति का एकीकरण
 C) परिवार का एकीकरण
 D) कर का समेकन

69) भारतीय मुद्रा में 2000 रुपये के नोट का आकार क्या है?

- A) 55mm × 160mm
 B) 60mm × 166mm
 C) 66mm × 166 mm
 D) 66mm × 160 mm

70) Which among the following are called as Shiksha Mitras?

- A) Teachers for primary school
- B) Teachers for science college
- C) Teachers for arts college
- D) Teachers for middle school

70) शिक्षा मित्र निम्नलिखित में से किसे कहा जाता है?

- A) प्राथमिक विद्यालय के लिए शिक्षक
- B) विज्ञान महाविद्यालय के लिए शिक्षक
- C) कला महाविद्यालय के लिए शिक्षक
- D) माध्यमिक विद्यालय के लिए शिक्षक

71) Cultivation of grapes is usually known as

- A) Sericulture
- B) Aviculture
- C) Moriculture
- D) Viticulture

71) अंगूर की खेती को आमतौर पर क्या कहा जाता है?

- A) सेरिकल्चर
- B) एवीकल्चर
- C) मोरीकल्चर
- D) विटीकल्चर

72) Which of the following functions initially, in year 1831, was exercised by 'Board of Revenue, Uttar Pradesh' was removed during 1932-35?

- A) Collection of Rent, Revenue and control over collection staff
- B) Administration of Revenue laws
- C) Work regarding Court of wards
- D) Settlement operations

72) आरंभ में निम्नलिखित में से कौन सा कार्य, वर्ष 1831 में, राजस्व परिषद, उत्तर प्रदेश द्वारा संपन्न किया जाता था जिसे 1932-35 के दौरान हटा दिया गया था?

- A) किराया वसूली, राजस्व वसूली और वसूली कर्मचारियों पर नियंत्रण
- B) राजस्व कानूनों का प्रशासन
- C) कोर्ट ऑफ वाडर्स से संबंधित कार्य
- D) बंदोबस्ती संचालन

73) Which of the following corporation has signed a contract agreement with Nepal's Department of Railways to supply two 1600 HP DEMU train sets in May 2019?

- A) Rail Vikas Nigam
- B) Indian Railway Construction Company Limited (IRCON)
- C) Konkan Railways Corporation Ltd
- D) RailTel Corporation of India

73) निम्नलिखित में से किस निगम ने मई 2019 में दो 1600 एचपी डीइएमयू (HP DEMU) ट्रेन सेट की आपूर्ति करने के लिए नेपाल के रेलवे विभाग के साथ अनुबंध समझौते पर हस्ताक्षर किया?

- A) रेल विकास निगम
- B) इंडियन रेलवे कंस्ट्रक्शन कंपनी लिमिटेड (IRCON)
- C) कोंकण रेलवेज़ कॉर्पोरेशन लिमिटेड
- D) रेलटेल कॉर्पोरेशन ऑफ़ इंडिया

74) Name the neighbouring nation of India with which India and Japan signed an agreement to jointly develop the East Container Terminal in May 2019.

- A) China
- B) Bangladesh
- C) Maldives
- D) Sri Lanka

74) भारत के उस पड़ोसी देश का नाम बताइए जिसके साथ भारत और जापान ने मई 2019 में ईस्ट कंटेनर टर्मिनल को संयुक्त रूप से विकसित करने के लिए एक समझौते पर हस्ताक्षर किए।

- A) चीन
- B) बांग्लादेश
- C) मालदीव
- D) श्रीलंका

75) The Salt March led by Mahatma Gandhi against the British was held between which of the following places in India?

- A) Bhavnagar to Dandi
- B) Junagadh to Dandi
- C) Rajkot to Dandi
- D) Ahmedabad to Dandi

75) भारत के निम्नलिखित में से किन स्थानों के बीच महात्मा गांधी के नेतृत्व में अंग्रेजों के विरुद्ध नमक मार्च आयोजित किया गया था?

- A) भावनगर से दांडी
- B) जूनागढ़ से दांडी
- C) राजकोट से दांडी
- D) अहमदाबाद से दांडी

Section 3 - Numerical Ability

76) A spacecraft travels 6,625 km in 2 hours 20 minutes and further it travels 824 kms in 40 mins. What is the average speed of the spacecraft?

- A) 2,483 km/hr
- B) 3,154 km/hr
- C) 3,256 km/hr
- D) 4,125 km/hr

76) एक अंतरिक्ष यान 2 घंटे 20 मिनट में 6,625 किमी. की यात्रा करता है और इसके बाद यह 40 मिनट में 824 किमी. आगे बढ़ता है। अंतरिक्ष यान की औसत गति क्या होगी?

- A) 2,483 किमी. प्रति घंटे
- B) 3,154 किमी. प्रति घंटे
- C) 3,256 किमी. प्रति घंटे
- D) 4,125 किमी. प्रति घंटे

77) A lift can carry only 6 people with an average weight of 65 kg each. If the average weight of 5 people in the lift is 67.2 kg, then what can be the maximum weight of the sixth person?

- A) 55 kg
- B) 64 kg
- C) 60 kg
- D) 54 kg

77) एक लिफ्ट प्रत्येक 65 किग्रा के औसत भार के केवल 6 लोगों को ले जा सकती है। यदि उस लिफ्ट में 5 लोगों का औसत भार 67.2 किग्रा है, तो छठे व्यक्ति का अधिकतम भार कितना हो सकता है?

- A) 55 किग्रा
- B) 64 किग्रा
- C) 60 किग्रा
- D) 54 किग्रा

78) Which salary increase option should a person choose for maximum salary?

- a) 10% increase in salary every quarter
- b) 40% increase in salary every year

- A) a
- B) b
- C) Both are the same
- D) Depends on the salary

78) अधिकतम वेतन के लिए किसी व्यक्ति को किस वेतन वृद्धि वाले विकल्प को चुनना चाहिए?

- a) हर तिमाही में वेतन में 10% की वृद्धि
- b) हर साल वेतन में 40% की वृद्धि

- A) a
- B) b
- C) दोनों समान हैं।
- D) वेतन पर निर्भर करता है।

79) The salary of an employee first increases by 50% and there after decreases by 54%. What was the overall percentage change in his salary?

- A) 4% increase
- B) 31% decrease
- C) 31% increase
- D) 4% decrease

80) Area of a circle with radius 'p' units is

- A) πp^2 sq. units
- B) $2 \pi p$ sq. units
- C) πp sq. units
- D) ZERO

81) The total weight of the silver coins with 'A' is 63 grams and that with 'B' is 77 grams. If the weight of the silver coins is an integer and is the same for all the coins, then what is the minimum number of coins with 'A' and 'B' together?

- A) 14
- B) 11
- C) 20
- D) Can't be determined

82) Which of the following is a mixed number?

- A) $2\frac{3}{8}$
- B) $\frac{5}{8}$
- C) $\frac{2}{3}$
- D) $\frac{7}{2}$

79) किसी कर्मचारी का वेतन पहले 50% बढ़ता है और उसके बाद 54% घट जाता है। उनके वेतन में परिवर्तन का कुल प्रतिशत कितना था?

- A) 4% वृद्धि
- B) 31% कमी
- C) 31% वृद्धि
- D) 4% कमी

80) 'p' यूनिट त्रिज्या वाले वृत्त का क्षेत्रफल है

- A) πp^2 वर्ग यूनिट
- B) $2 \pi p$ वर्ग यूनिट
- C) πp वर्ग यूनिट
- D) शून्य

81) 'A' के पास 63 ग्राम वजन वाले चाँदी के सिक्के और 'B' के पास 77 ग्राम वजन वाले चाँदी के सिक्के हैं। यदि चाँदी के सिक्कों का वजन पूर्णाकों में है और सभी सिक्कों के लिए समान हैं, तो 'A' और 'B' के पास एक साथ कम-से-कम कितने सिक्के हैं?

- A) 14
- B) 11
- C) 20
- D) निर्धारित नहीं किया जा सकता

82) इनमें से कौन मिश्रित संख्या है?

- A) $2\frac{3}{8}$
- B) $\frac{5}{8}$
- C) $\frac{2}{3}$
- D) $\frac{7}{2}$

83) What is the value of the given expression?

$$\sqrt[5]{\sqrt[3]{\sqrt[2]{\sqrt[3]{3^3}}}}$$

- A) 3^{90}
 B) $3^{\frac{1}{6}}$
 C) $3^{\frac{1}{10}}$
 D) 3^{30}

83) दिए गए व्यंजक का मान कितना है?

$$\sqrt[5]{\sqrt[3]{\sqrt[2]{\sqrt[3]{3^3}}}}$$

- A) 3^{90}
 B) $3^{\frac{1}{6}}$
 C) $3^{\frac{1}{10}}$
 D) 3^{30}

84) For what value of k the system of equations
 $2x + 3y = 5$ and $4x + ky = 10$ has infinitely
 many solutions?

- A) 1
 B) 3
 C) 6
 D) 0

84) k के किस मान के लिए समीकरणों की प्रणाली

$2x + 3y = 5$ और $4x + ky = 10$ में असीम रूप से कई
 समाधान हैं?

- A) 1
 B) 3
 C) 6
 D) 0

85) If

- denotes multiplication,
 × denotes addition,
 + denotes division and
 ÷ denotes subtraction,

85) यदि

- का अर्थ है गुणा,
 × का अर्थ है योग,
 + का अर्थ है विभाजन और
 ÷ का अर्थ है घटाव,

then, what is the value of the following expression?

तो निम्नलिखित व्यंजक का मान कितना है?

$$40 \times 12 + 3 - 6 \div 60$$

$$40 \times 12 + 3 - 6 \div 60$$

- A) - 44
 B) 7.95
 C) 4
 D) 482.9

- A) -44
 B) 7.95
 C) 4
 D) 482.9

Section 4 - Mental Ability

86) G walks 20 km towards North. He turns left and walks 40 km. He again turns left and walks 20 km. Finally he moves 20 km after turning to the left. How far is he from his starting position?

- A) 20 km
- B) 30 km
- C) 50 km
- D) 60 km

87) Select one of the following four options that will make the second pair analogous to the first pair.
CACTUS : CACSUT :: BUZZER : ?

- A) REZZUB
- B) UZZBER
- C) ZUBREZ
- D) UZEZBR

88) Given below is a statement followed by two assumptions. Choose the answer as-

- A, if only assumption (i) is implicit in the statement.
- B, if only assumption (ii) is implicit in the statement.
- C, if both assumptions (i) and (ii) are implicit in the statement.
- D, if none of the assumptions are implicit in the statement.

Statement:

Chess is a mind game and needs a lot of thinking to do.

Assumptions:

- (i) Viswanathan Anand is the best chess player in this country.
- (ii) Anand's strategies in chess are unique.

- A) A
- B) C
- C) D
- D) B

86) G उत्तर की ओर 20 किमी. चलता है। वह बायीं ओर मुड़ता है और 40 किमी. चलता है। वह पुनः बायीं ओर मुड़ता है और 20 किमी. चलता है। अंत में वह बायीं ओर मुड़ने के बाद 20 किमी. चलता है। वह अपनी प्रारंभिक स्थिति से कितनी दूर है?

- A) 20 किमी.
- B) 30 किमी.
- C) 50 किमी.
- D) 60 किमी.

87) निम्नलिखित चार विकल्पों में से एक का चयन कीजिए, जो दूसरी जोड़ी को दी गई पहली जोड़ी के समरूप बनाएगा-
CACTUS : CACSUT :: BUZZER : ?

- A) REZZUB
- B) UZZBER
- C) ZUBREZ
- D) UZEZBR

88) नीचे एक कथन और उसके दो पूर्वधारणाएँ दी गई हैं। उत्तर को इस रूप में चुनिए -

- A, यदि कथन में केवल पूर्वधारणा (i) निहित है।
- B, यदि कथन में केवल पूर्वधारणा (ii) निहित है।
- C, यदि कथन में (i) और (ii) दोनों पूर्वधारणाएँ निहित हैं।
- D, यदि कथन में दोनों ही पूर्वधारणाएँ निहित नहीं हैं।

कथन :

शतरंज एक दिमागी खेल है और इसे खेलने के लिए अधिक सोच-विचार की आवश्यकता होती है।

पूर्वधारणाएँ :

- (i) विश्वनाथन आनंद इस देश के सर्वश्रेष्ठ शतरंज खिलाड़ी हैं।
- (ii) शतरंज में आनंद की रणनीतियाँ अद्वितीय हैं।

- A) A
- B) C
- C) D
- D) B

89) What is the next number in the series

23, 28, 34, 41, 49, ?

- A) 52
- B) 54
- C) 58
- D) 61

89) 23, 28, 34, 41, 49, ? श्रृंखला में आगामी संख्या कौन-सी है?

- A) 52
- B) 54
- C) 58
- D) 61

90) Which one of these meaningful words can be made by using the letters in the word "MATURITY" ?

- A) NATURAL
- B) ARMATURE
- C) ATRIUM
- D) RITUAL

90) "MATURITY" शब्द के अक्षरों का उपयोग करके इनमें से कौन-सा अर्थपूर्ण शब्द बनाया जा सकता है?

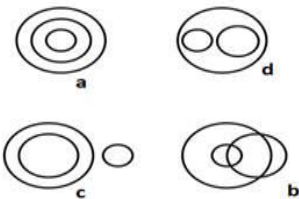
- A) NATURAL
- B) ARMATURE
- C) ATRIUM
- D) RITUAL

91) Which is the next figure in the series given?

[Note: Choose the right answer from the answer options given and select an option]



ANSWER OPTIONS

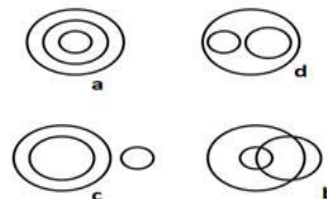


- A) b
- B) c
- C) a
- D) d

91) दी गई श्रृंखला में आगली आकृति कौन-सी है? [नोट : दिए गए उत्तर विकल्पों (Answer options) में से सही उत्तर को पहचानिए और नीचे के विकल्पों में से उचित उत्तर चुनिए।]



ANSWER OPTIONS



- A) b
- B) c
- C) a
- D) d

92) What is the acute angle (in degrees) between the minute hand and hour hand at 8 PM?

- A) 90
- B) 120
- C) 150
- D) 180

92) 8 PM बजे मिनट की सुई और घंटे की सुई के बीच न्यून कोण (डिग्री में) क्या होगा?

- A) 90
- B) 120
- C) 150
- D) 180

93) Directions: The question consists of a statement, followed by two arguments numbered I and II. You have to decide which of the given arguments is strong and which argument is weak.

Statement:

Should Bullet Trains be introduced for the public?

Arguments:

I. Yes. It reduces the travel time thereby saving time and money.

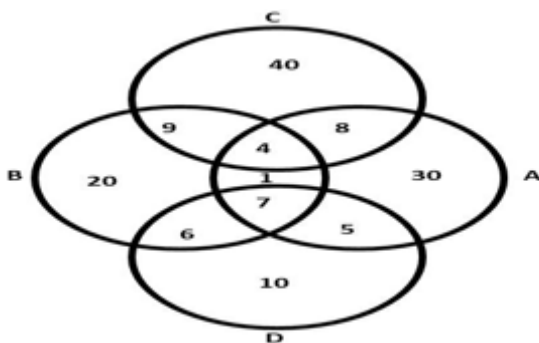
II. No. It should first need a good infrastructure built after which the bullet trains can be introduced.

1. Only argument I is strong.
2. Only argument II is strong.
3. Both arguments I and II are strong.
4. Neither argument I nor argument II is strong.

- A) 2
- B) 3
- C) 1
- D) 4

94) The Venn diagram mentioned here gives a report of the number of students who participated in a sports event. There were only 4 sports conducted in the event. The distribution shows the number of students who participated in 4 sports A, B, C and D. Based on the information given in the Venn diagram, answer the question given below.

How many students participated in the sports event?



- A) 150
- B) 140
- C) 129
- D) 128

93) निर्देश : प्रश्न में एक कथन और उसके दो तर्क, I और II दिए गए हैं। आपको यह तय करना है कि दिए गए तर्कों में से कौन-सा तर्क मज़बूत और कौन-सा तर्क कमज़ोर है।

कथन :

क्या जनता के लिए बुलेट ट्रेन शुरू की जानी चाहिए?

तर्क :

I. हाँ, यह यात्रा के समय को कम करता है, जिससे समय और धन की बचत होगी।

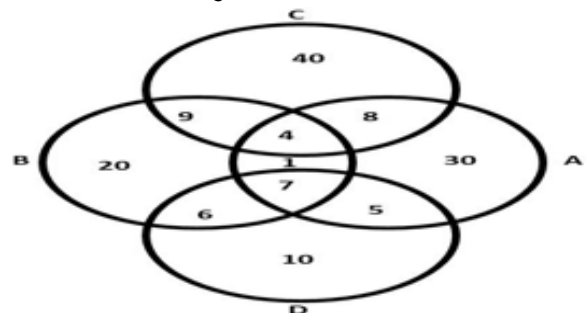
II. नहीं, इसके लिए पहले एक अच्छा इंफ्रास्ट्रक्चर बनाया जाना चाहिए, जिसके बाद बुलेट ट्रेनों को शुरू किया जा सकता है।

1. केवल तर्क I मज़बूत है।
2. केवल तर्क II मज़बूत है।
3. I और II दोनों तर्क मज़बूत हैं।
4. न तो तर्क I और न ही तर्क II मज़बूत है।

- A) 2
- B) 3
- C) 1
- D) 4

94) यहाँ दिए गए वेन आरेख में एक खेल प्रतियोगिता में भाग लेने वाले छात्रों की संख्या की रिपोर्ट दी गई है। उस प्रतियोगिता में केवल 4 खेल आयोजित किए गए थे। यह वितरण 4 खेल A, B, C और D में भाग लेने वाले छात्रों की संख्या को दर्शाता है। वेन आरेख में दी गई जानकारियों के आधार पर नीचे दिए गए प्रश्न का उत्तर दीजिए।

खेल प्रतियोगिता में कुल कितने छात्रों ने भाग लिया?



- A) 150
- B) 140
- C) 129
- D) 128

Section 5 - Mental Aptitude

95) Everyday on her way to work Beth sees a group of poor children near their slum playing cricket with sticks and a tennis ball while other children are at school. Beth is single, a part time worker, comes from a well to do family and works just to keep herself occupied. What can Beth do to help these kids?

- A) Go and spend some time talking to them.
- B) Buy some bats and balls and give it to them.
- C) Get her brother to teach them how to play the game correctly.
- D) Spend a few hours during the week teaching them to read and write.

95) अपने काम पर जाने के रास्ते पर, हर दिन बेथ गरीब बच्चों के एक झुंड को अपने स्लम के पास स्टिक्स से क्रिकेट और टेनिस बॉल खेलते हुए देखती है, जबकि उस समय अन्य बच्चे स्कूल में होते हैं। बेथ एकल है, एक पार्ट टाइम वर्कर है, एक सम्पन्न परिवार से आती है और बस अपने को व्यस्त रखने के लिए काम करती है। इन बच्चों की मदद करने के लिए बेथ क्या कर सकती है?

- A) उनके पास जाए और उनसे बात करके कुछ समय बिताए।
- B) उन्हें देने के लिए कुछ बैट और बॉल्स खरीदे।
- C) अपने भाई को साथ ले आए जो उन्हें खेल को सही तरीके से खेलना सिखाए।
- D) उन्हें पढ़ना और लिखना सिखाने के लिए सप्ताह के कुछ घंटे उनके साथ बिताए।

96) Taking up a job that one is interested in can help one in achieving which of the following benefits on the job?

- A) If one is earning a huge salary, interest in the job is likely to be more.
- B) If one is working in a reputed company, one is bound to be satisfied with his job.
- C) If one has the need for a job, one will be happy to remain on that job.
- D) If the job matches one's interest, it is likely to keep one happy on the job.

96) एक ऐसी नौकरी पा लेना जिसमें उसकी रुचि है, से निम्नलिखित में से कौन-सा फ़ायदा प्राप्त करने में मदद मिल सकती है?

- A) यदि कोई अच्छा वेतन प्राप्त रहा है, तो नौकरी में रुचि अधिक होने की संभावना है।
- B) यदि कोई एक प्रतिष्ठित कंपनी में काम कर रहा है, तो वह अपनी नौकरी से संतुष्ट अवश्य ही होगा।
- C) यदि किसी को नौकरी की आवश्यकता है, तो उस नौकरी पर बने रहने में खुशी होगी।
- D) यदि नौकरी किसी की रुचि से मेल खाती है, तो इससे इस नौकरी में खुश रहने की संभावना है।

97) When compared to other cities in country Z, city 'Sahas' faces serious law and order problems. Which of the following reasons could be contributing for such a kind of problem in city 'Sahas'?

- A) Planned growth of the city
- B) Unchecked influx of migrants
- C) Lack of disparity in income
- D) Increase in employment opportunities

98) Kate is driving along the road when she sees that a car is trying to overtake her. She notes that the driver is busy texting on his phone and driving strangely. Which of the following is an appropriate action on the part of Kate?

- A) Just mind her own business and continue driving.
- B) Try and catch up with the driver, put her window down and yell at him.
- C) Overtake the distracted driver, or slow down and let them overtake her.
- D) Call the police as soon as she notices the man texting on his phone and report it.

99) Akash, Bharath, Chandu and Damodar are working together. Akash does not hesitate to say 'No' to new commitments if he knows he cannot complete it. Bharath accepts all assignments but fails to complete most of them. Chandu never accepts new work that requires learning because he is scared of change. Damodar is overloaded with work and is always stressed because he is too scared to reject the work given by his boss. Who among the four is mentally tough?

97) जब देश Z के शहर 'साहास' की तुलना उसके अन्य शहरों से की जाती है तो पाया जाता है कि उसे गंभीर कानून और व्यवस्था की समस्याओं का सामना करना पड़ता है। शहर 'साहास' में इस तरह की समस्या निम्नलिखित किस कारण से हो सकती है?

- A) शहर का नियोजित विकास
- B) प्रवासियों का अनियंत्रित प्रवेश
- C) आमदनी में असमानता का अभाव
- D) रोज़गार के अवसरों में वृद्धि

98) केट ड्राइविंग कर रही है तभी वह देखती है कि एक कार उसे ओवरटेक करने की कोशिश कर रही है। उसने देखा कि ड्राइवर अपने फोन पर टेक्स्टिंग करने में व्यस्त है और अजीब तरीके से ड्राइविंग कर रहा है। निम्नलिखित में से कौन-सी कार्रवाई केट की ओर से उचित है?

- A) वह बस अपने काम पर ध्यान दे और ड्राइविंग जारी रखे।
- B) कोशिश करके ड्राइवर तक पहुंचे, अपनी खिड़की खोले और उस पर चिल्लाए।
- C) ध्यान भटके हुए ड्राइवर को ओवरटेक करे, या अपनी गति धीमी करे और उसे आगे निकलने दे।
- D) जैसे ही वह देखे कि व्यक्ति अपने फोन पर टेक्स्टिंग कर रहा है, पुलिस को कॉल करे और रिपोर्ट करे।

99) आकाश, भरत, चंदू और दामोदर एक साथ काम कर रहे हैं। आकाश, अगर समझता है कि वह इसे पूरा नहीं कर सकता है तो नई प्रतिबद्धता के लिए 'नहीं' कहने में संकोच नहीं करता। भरत सभी कामों को स्वीकार कर लेता है लेकिन उनमें से अधिकांश को पूरा करने में विफल रहता है। चंदू कभी भी ऐसे नए काम को स्वीकार नहीं करता जिसे सीखने की आवश्यकता है क्योंकि वह बदलाव से डरता है। दामोदर पर काम का बहुत भार है और हमेशा तनाव में रहता है क्योंकि वह अपने मालिक द्वारा दिए गए काम को अस्वीकार करने से बहुत डरता है। चारों में से कौन मानसिक रूप से दृढ़ है?

- A) Damodar
B) Bharath
C) Akash
D) Chandu

- A) दामोदर
B) भरत
C) आकाश
D) चंदू

100) Ramnath is a widower. Ramnath's only son married an American. Ramnath an orthodox person finds it very difficult to accept his daughter-in-law. He is curt and unfriendly to her. This disturbs his son who deeply loves his wife. He tries to explain to his father but his father is adamant. In such a scenario, Ramnath's son is likely to react in which of the following ways?

- A) He is likely to divorce his wife and marry again.
B) He will attempt to keep his father and wife apart.
C) He will force his wife to respect his father.
D) He will abandon his father and move to America.

100) रामनाथ एक विधुर हैं। रामनाथ के इकलौते बेटे ने एक अमेरिकी से शादी की। रामनाथ एक रूढ़िवादी व्यक्ति हैं उनके लिए अपनी बहू को स्वीकार करना बड़ी मुश्किल है। वे उसके लिए रूखे और स्नेहहीन हैं। यह उसके बेटे को परेशान करता है जो अपनी पत्नी से बेहद प्यार करता है। वह अपने पिता को समझाने की कोशिश करता है लेकिन उनके पिता बड़े अड़ियल किस्म के हैं। ऐसे परिदृश्य में रामनाथ के पुत्र के निम्नलिखित में से किस प्रकार का व्यवहार करने की संभावना है?

- A) वह अपनी पत्नी को तलाक देकर फिर से शादी कर सकता है।
B) वह अपने पिता और पत्नी को अलग-अलग रखने का प्रयास करेगा।
C) वह अपनी पत्नी को अपने पिता का सम्मान करने के लिए मजबूर करेगा।
D) वह अपने पिता को त्याग कर अमेरिका चला जाएगा।

101) Under a democratic set up the police are allowed to do all of the following EXCEPT:

- A) Restrict public demonstrations demanding cancellation of certain restrictive policies.
B) Arrest protesters for damaging public property such as public transport.
C) Resort to negotiation and not intimidation with people who are protesting.
D) Prevent any kind of inconvenience to emergency services such as hospitals.

101) एक लोकतांत्रिक व्यवस्था के अंतर्गत पुलिस को निम्नलिखित में से इस एक को छोड़कर, सभी कार्य करने की अनुमति है :

- A) कुछ प्रतिबंधात्मक नीतियों को रद्द करने की माँग करने वाले सार्वजनिक प्रदर्शन को प्रतिबंधित करना।
B) सार्वजनिक परिवहन जैसी सार्वजनिक संपत्ति को नुकसान पहुँचाने के लिए प्रदर्शनकारियों को गिरफ्तार करना।
C) विरोध करने वाले लोगों को डराने के बजाय बातचीत का सहारा लेना।
D) अस्पतालों जैसी आपातकालीन सेवाओं में सभी प्रकार की असुविधा को रोकना।

102) Preeti whose father is the chief minister of the state and Ranjani whose father is a rich farmer are friends. Both Preeti and Ranjani are appearing for the civil service exam. Which of the following is TRUE to Preeti and Ranjani regarding the examination fees collected from them?

- A) Preeti pays more fees than the fees paid by Ranjani.
- B) Preeti pays less fees than that paid by Ranjani.
- C) Both Preeti and Ranjani are exempted from paying fees.
- D) Both Preeti and Ranjani pay the same amount of fee.

103) Rajan's friend celebrates Diwali every year by bursting crackers. He wishes to advise his friend not to do this and he gives him several reasons for not bursting crackers. Which one of the following reasons do you think would help Rajan's friend to make up his mind to not continue bursting loud crackers? It ...

- A) kills all the insects that live among us.
- B) is your choice to celebrate any festival how you want.
- C) is an Indian tradition and we should follow all our traditions.
- D) can aggravate problems associated with lung disease.

104) Nag wants to become an actor. Which of the following traits is important for him to become a professional actor?

- A) Nag should be a swift runner
- B) Nag must not be afraid of blood
- C) Nag should be able to convey emotions
- D) Nag should be scientific in approach

102) प्रीति जिसके पिता राज्य के मुख्यमंत्री हैं और रंजनी जिसके पिता एक अमीर किसान हैं, दोनों दोस्त हैं। प्रीति और रंजनी दोनों सिविल सेवा परीक्षा दे रही हैं। प्रीति और रंजनी से लिए गए परीक्षा शुल्क के सन्दर्भ में निम्नलिखित में से कौन सा विकल्प सही है?

- A) प्रीति, रंजनी द्वारा दी गई फीस से अधिक फीस का भुगतान करती है।
- B) प्रीति, रंजनी द्वारा दी गई फीस से कम फीस का भुगतान करती है।
- C) प्रीति और रंजनी दोनों को फीस देने से छूट दी गई है।
- D) प्रीति और रंजनी दोनों ही एक समान फीस का भुगतान करती हैं।

103) राजन का दोस्त हर साल पटाखे फोड़कर दिवाली मनाता है। वह अपने दोस्त को ऐसा न करने की सलाह देना चाहता है और वह उसे पटाखे न फोड़ने के कई कारण देता है। निम्नलिखित में से कौन-से कारण से आपको लगता है कि राजन के दोस्त को पटाखे नहीं फोड़ने का मन बनाने में मदद मिलेगी? यह ...

- A) हमारे बीच रहने वाले सभी कीड़ों को मार देता है।
- B) आपकी पसंद है कि आप किसी भी त्योहार को कैसे मनाते हैं।
- C) एक भारतीय परंपरा है और हमें अपनी सभी परंपराओं का पालन करना चाहिए।
- D) फेफड़ों की बीमारी से जुड़ी समस्याओं को बढ़ा सकता है।

104) नाग अभिनेता बनना चाहता है। उसके लिए एक पेशेवर अभिनेता बनने के लिए निम्नलिखित में से कौन-सी विशेषता महत्वपूर्ण है?

- A) नाग को तेज़ दौड़ना आना चाहिए
- B) नाग को खून से नहीं डरना चाहिए
- C) नाग को भावनाओं को व्यक्त करने में सक्षम होना चाहिए
- D) नाग का दृष्टिकोण वैज्ञानिक होना चाहिए

105) Digital technology has resulted in great business opportunities but it has also increased the concern for information security. Emerging trends of cyber-crimes include which of the following?

- a) Hacking
- b) Snatching
- c) Phishing
- d) Pickpocketing
- e) Identity theft

- A) a, b, c and d
- B) b, c and d
- C) a, c and e
- D) c, d and e

106) The British rule in India was based on 'divide and rule' policy. It was the greatest setback to India's national integration. All of the following practices of the British disturbed the Indian communal harmony EXCEPT:

- A) They created a difference between Hindu and Muslims on the basis of religion.
- B) They created differences between rich and poor, rural and urban, upper and lower classes.
- C) They encouraged linguistic differences, communalism, casteism and regionalism.
- D) Resentment against their policies created among all Indians a feeling of unity and harmony.

105) डिजिटल प्रौद्योगिकी के कारण व्यापार के उत्कृष्ट अवसर पैदा हुए हैं लेकिन इसने सूचना सुरक्षा के लिए भी चिंता बढ़ा दी है। साइबर अपराधों के उभरते रुझानों में निम्नलिखित में से कौन-से शामिल हैं?

- a) हैकिंग
- b) स्नैचिंग
- c) फिशिंग
- d) पिकपॉकेटिंग
- e) आइडेंटिटी थेफ्ट

- A) a, b, c और d
- B) b, c और d
- C) a, c और e
- D) c, d और e

106) भारत में ब्रिटिश शासन 'फूट डालो और राज करो' की नीति पर आधारित था। भारत के राष्ट्रीय एकीकरण के लिए यह सबसे बड़ा झटका था। निम्नलिखित इस एक को छोड़कर अंग्रेजों की अन्य सभी प्रथाओं ने भारतीय सांप्रदायिक सद्भाव में विघ्न डाला :

- A) उन्होंने धर्म के आधार पर हिंदू और मुसलमानों के बीच भेदभाव पैदा की।
- B) उन्होंने अमीर-गरीब, ग्रामीण-शहरी, उच्च-निम्न वर्गों के बीच असमानताएँ पैदा की।
- C) उन्होंने भाषाई मतभेद, सांप्रदायिकता, जातिवाद और क्षेत्रवाद को प्रोत्साहित किया।
- D) उनकी नीतियों के खिलाफ आक्रोश ने सभी भारतीयों के बीच एकता और सद्भाव की भावना बनाई।

107) It has been reported that blind commuters in metro trains often miss their stops and face great inconvenience to retrace their paths. In which of the following ways can such problems be resolved by the authorities concerned?

- A) Provide audible 'next stop' announcements to facilitate blind passengers onboard.
- B) The authorities must immediately prevent blind passengers from using trains independently.
- C) Provide audible 'next stop' announcements at the stations for passengers' benefit.
- D) The authorities must provide special trains with escorts to all blind passengers.

108) Mary got through several rounds of the hiring process to manage the quality assurance team in a leading software company. The job required international travel once in three months. She wanted to be upfront with her employer so she informed them that she was three months pregnant. The interview panel was very pleased with her answers but decided against her selection in spite of her assurances that she will take a minimum parental leave, because she was

- A) pregnant
- B) inefficient
- C) inexperienced
- D) complicated

107) यह पाया गया है कि मेट्रो ट्रेनों में नेत्रहीन यात्री अक्सर अपने स्टॉप में उतरने से चूक जाते हैं और दोबारा अपने मार्ग में वापस आने के लिए बड़ी असुविधाओं का सामना करते हैं। संबंधित अधिकारियों द्वारा ऐसी समस्याओं को निम्नलिखित में से किस तरीके से हल किया जा सकता है?

- A) ट्रेन में नेत्रहीन यात्रियों की सुविधा के लिए 'अगला स्टॉप' की श्रव्य घोषणाएँ उपलब्ध कराएँ।
- B) अधिकारियों को तुरंत नेत्रहीन यात्रियों को स्वतंत्र रूप से ट्रेनों का उपयोग करने से रोकना चाहिए।
- C) यात्रियों के लाभ के लिए स्टेशनों पर 'अगला स्टॉप' की श्रव्य घोषणाएँ उपलब्ध कराएँ।
- D) अधिकारियों द्वारा सभी नेत्रहीन यात्रियों को एस्कॉर्ट्स के साथ विशेष ट्रेनें उपलब्ध करवाना चाहिए।

108) मैरी को, एक अग्रणी सॉफ्टवेयर कंपनी में क्वालिटी एश्योरेंस टीम का प्रबंधन करने के लिए भर्ती प्रक्रिया के कई दौरों के माध्यम से सफलता मिली। इस नौकरी के लिए तीन महीने में एक बार अंतर्राष्ट्रीय यात्रा की आवश्यकता होती है। वह अपने नियोक्ता को पहले से बता देना चाहती थी इसलिए उसने उन्हें सूचित किया कि वह तीन महीने की गर्भवती है। साक्षात्कार पैनल उसके उत्तरों से बहुत खुश था, लेकिन उसके आश्वासन के बावजूद कि वह एक न्यूनतम पैरेंटल लीव लेगी, चयन का फैसला उसके विरुद्ध किया, क्योंकि वह

- A) गर्भवती थी
- B) अक्षम थी
- C) अनुभवहीन थी
- D) जटिल थी

109) Child custody is the most important problem faced by the couple who seek a divorce. Normally under such circumstances the court decides on the basis of

- A) the father's position
- B) the mother's position
- C) the lawyer's arguments
- D) the best interests of child

110) David forged his brother's signature on the business documents and cheated him of a huge amount of money. In which of the following ways could David's brother prevent himself from being cheated?

- a) Setting up separation of duties and dual controls within his own business
 - b) The owner should take care of signing all checks and approving all transactions
 - c) Creating a system for keeping check books secure
 - d) Develop a complex signature with numerous changes of handwriting
- A) a and b
 - B) a, b, c and d
 - C) c and d
 - D) b, c and d

109) तलाक लेने वाले दंपती के सामने बच्चे की कस्टडी सबसे महत्वपूर्ण समस्या है। आमतौर पर ऐसी परिस्थितियों में अदालत सामान्यतः इस आधार पर निर्णय लेती है

- A) पिता की स्थिति
- B) माँ की स्थिति
- C) वकील की दलीलें
- D) बच्चे का सर्वोत्तम हित

110) डेविड ने व्यावसायिक दस्तावेजों पर अपने भाई के जाली हस्ताक्षर किए और उससे मोटी रकम की ठगी की। डेविड के भाई ने निम्नलिखित में से किस तरीके से स्वयं को ठगे जाने से रोका?

- a) अपने व्यवसाय में कामों और दोहरे नियंत्रणों को अलग-अलग करके
 - b) मालिक को सभी चेकों पर हस्ताक्षर करने और सभी लेनदेनों को स्वीकृति देनी चाहिए।
 - c) चेक बुक्स को सुरक्षित रखने के लिए एक सिस्टम बनाना चाहिए।
 - d) लिखावट में कई बदलावों के साथ एक जटिल हस्ताक्षर करने चाहिए।
- A) a और b
 - B) a, b, c और d
 - C) c और d
 - D) b, c और d

Section 6 - I Q Test

111) Which is the odd one out among the four options?

- A) &300#
- B) &200#
- C) &400#
- D) &T00#

111) चार विकल्पों में से विषम कौन सा है?

- A) &300#
- B) &200#
- C) &400#
- D) &T00#

112) Arrange the name of the geometrical figures given below in the ascending order of the number of sides that they have and select an option.

1. Straight line
2. Pentagon
3. Square
4. Octagon
5. Decagon

- A) 1 2 3 4 5
- B) 3 2 4 5 1
- C) 1 3 2 4 5
- D) 3 1 2 4 5

112) नीचे दी गई ज्यामितीय आकृतियों के नाम को उनकी भुजाओं की संख्या के आरोही क्रम में व्यवस्थित कर विकल्प का चयन करें।

1. सरल रेखा
2. पंचभुज
3. वर्ग
4. अष्टभुज
5. दशभुज

- A) 1 2 3 4 5
- B) 3 2 4 5 1
- C) 1 3 2 4 5
- D) 3 1 2 4 5

113) Which of the following options will make the second pair analogous to the first pair given as:
Sleep : Insomnia :: Memory : ?

- A) Haemophilia
- B) Alzheimer's
- C) Diabetes
- D) Ischemia

113) निम्नलिखित चार विकल्पों में से कौन सा विकल्प दूसरी जोड़ी को पहली जोड़ी के समरूप बनाएगा:
नींद : अनिद्रा :: स्मृति : ?

- A) हीमोफीलिया
- B) अल्ज़ाइमर्स
- C) डायबिटीज़
- D) इस्कीमिया

114) Instruction: The below table gives the population of two cities A and B in different time periods. From the information given, answer the question given below.

Years	Population of City A (in 1000's)	Population of City B (in 1000's)
1970	45	59
1980	50	63
1990	54	67
2000	62	75
2010	70	82

The ratio of population of city A to population of city B is greatest for which of the following year?

- A) 1970
- B) 1980
- C) 2000
- D) 2010

115) In a certain code, if GATE is coded as ETAG, then what will be the code for ROAD?

- A) DAOR
- B) DARO
- C) DORA
- D) DORO

116) A child which was facing east direction turned 400 degrees in the anti-clockwise direction and then 220 degrees in the clockwise direction. Which direction is he facing now?

- A) East
- B) West
- C) North
- D) South

114) निर्देश: नीचे दी गई तालिका, अलग-अलग समय अवधि में दो शहरों A और B की जनसंख्या बताती है। दी गई जानकारी से, नीचे दिए प्रश्न का उत्तर दें।

वर्ष	शहर A की जनसंख्या (1000 में)	शहर B की जनसंख्या (1000 में)
1970	45	59
1980	50	63
1990	54	67
2000	62	75
2010	70	82

निम्नलिखित में से किस वर्ष में शहर B की जनसंख्या की तुलना में शहर A की जनसंख्या का अनुपात सबसे ज्यादा है?

- A) 1970
- B) 1980
- C) 2000
- D) 2010

115) एक विशेष कोड में यदि GATE को ETAG के रूप में कोड किया जाता है, तो ROAD के लिए कोड क्या होगा?

- A) DAOR
- B) DARO
- C) DORA
- D) DORO

116) एक बच्चा जो पूर्व दिशा में था, वह घड़ी की विपरीत दिशा में 400 डिग्री और फिर घड़ी की दिशा में 220 डिग्री मुड़ता है। वह अब किस दिशा में है?

- A) पूर्व
- B) पश्चिम
- C) उत्तर
- D) दक्षिण

117) If the day before yesterday was Sunday, then what day will it be after 100 days from today?

- A) Sunday
- B) Tuesday
- C) Thursday
- D) Friday

118) If day after tomorrow is Monday, then what day will it be after 15 days from today?

- A) Thursday
- B) Friday
- C) Saturday
- D) Sunday

119) 3 times a number added to four times 50% of the same number is 200 more than the number.

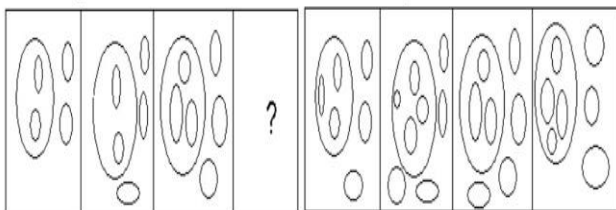
Which is the number?

- A) 20
- B) 50
- C) 100
- D) 150

120) Which of the answer figures will complete the figural series given in the problem figures?

Problem Figures

Answer Figures



- A) A
- B) B
- C) C
- D) D

117) यदि बीते परसों का दिन रविवार था, तो आज से 100 दिन बाद कौन सा दिन होगा?

- A) रविवार
- B) मंगलवार
- C) गुरुवार
- D) शुक्रवार

118) यदि परसों सोमवार है, तो आज से 15 दिन बाद कौन सा दिन रहेगा?

- A) गुरुवार
- B) शुक्रवार
- C) शनिवार
- D) रविवार

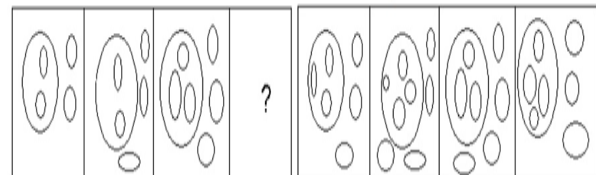
119) किसी संख्या का 3 गुना, उसी संख्या के 50% के चार गुना में मिलाने पर उस संख्या से 200 अधिक होता है। संख्या कौन सी है?

- A) 20
- B) 50
- C) 100
- D) 150

120) कौन सी उत्तर आकृति समस्या आकृति में दी गई आकृतियों की श्रृंखला को पूरी करेगी?

समस्या आकृति

उत्तर आकृति



- A) A
- B) B
- C) C
- D) D

121) While calculating the average of 20 distinct two-digit numbers, Tina copied one of the numbers in reverse order, due to which the average obtained was smaller than the actual average by 3.6. What is the difference in the digits of the number?

- A) 36
- B) 8
- C) 4
- D) 16

121) 20 विशिष्ट दो-अंकीय संख्याओं के औसत की गणना करते हुए, टीना ने एक संख्या की रिवर्स ऑर्डर में नकल की, जिसके कारण प्राप्त औसत वास्तविक औसत से 3.6 कम था। संख्या के अंकों में क्या अंतर है?

- A) 36
- B) 8
- C) 4
- D) 16

122) What comes in the place of question mark in the given series?

NOM, QRP, TUS, ?

- A) HTU
- B) WXV
- C) WAX
- D) WVX

122) दी गई श्रृंखला में प्रश्न चिह्न के स्थान पर क्या आएगा?

NOM, QRP, TUS, ?

- A) HTU
- B) WXV
- C) WAX
- D) WVX

123) Heena is the daughter of the brother of Ravi's father Mahesh. Vikram is Heena's brother. How is Vikram related to Mahesh's mother?

- A) Son
- B) Brother
- C) Nephew
- D) Grandson

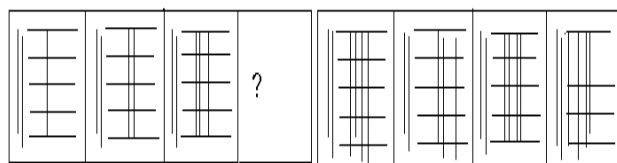
123) हिना, रवि के पिता महेश के भाई की बेटी है। विक्रम हिना का भाई है। विक्रम और महेश की मां के बीच क्या रिश्ता है?

- A) बेटा
- B) भाई
- C) भतीजा
- D) पोता

124) Which of the answer figures will complete the figural series given in the problem figures?

Problem Figures

Answer Figures

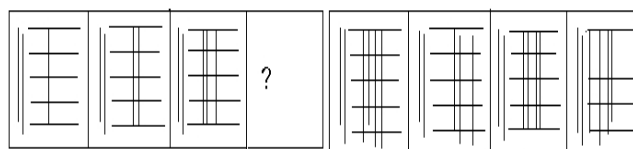


- A) A
- B) B
- C) C
- D) D

124) कौन सी उत्तर आकृति समस्या आकृति में दी गई आकृतियों की श्रृंखला को पूरी करेगी?

समस्या आकृति

उत्तर आकृति



- A) A
- B) B
- C) C
- D) D

125) Which is the odd one out among the four options?

- A) A#M
- B) L#P
- C) U#Y
- D) #KJ

125) चार विकल्पों में से विषम कौन सा है?

- A) A#M
- B) L#P
- C) U#Y
- D) #KJ

126) What comes in the place of question mark in the given series?

ATS, CUT, EVU, ?

- A) KWV
- B) HVW
- C) GWV
- D) FHG

126) दी गई श्रृंखला में प्रश्न चिह्न के स्थान पर क्या आएगा?

ATS, CUT, EVU, ?

- A) KWV
- B) HVW
- C) GWV
- D) FHG

127) A dog runs 20 m towards south direction. It takes a left turn and runs for 10 m. Again it turns right and starts running. Which direction is the dog facing now?

- A) East
- B) West
- C) South-west
- D) South

127) एक कुत्ता दक्षिण दिशा की ओर 20 मीटर भागता है। वह बायीं ओर मुड़ता है और 10 मीटर भागता है। फिर वह दायीं ओर मुड़ता है और दौड़ने लगता है। कुत्ता अब किस दिशा में है?

- A) पूर्व
- B) पश्चिम
- C) दक्षिण-पश्चिम
- D) दक्षिण

128) Arrange the words given below in the heirarchy of the positions that they have in an organization.

1. Assistant Manager
2. Manager
3. Deputy General Manager
4. Senior Manager
5. Chief Executive Officer

- A) 1 2 4 3 5
B) 2 3 1 4 5
C) 1 3 2 4 5
D) 2 1 3 5 4

129) If Sam means Ben, Ben means Jam, and Jam means Ren, then what does Ben mean?

- A) Sam
B) Jam
C) Ren
D) Ben

130) In a certain code, if ORDINARY is coded as ROIDANYR, then what will be the code for PERFECTION?

- A) QFSGFDUJPO
B) EPFRCEITNO
C) QFSGUDOPJ
D) EPFRECNTNO

128) नीचे दिए गए शब्दों को किसी संगठन में उनके पदों के अनुक्रम में व्यवस्थित करें।

1. सहायक प्रबंधक
2. प्रबंधक
3. उप महाप्रबंधक
4. वरिष्ठ प्रबंधक
5. मुख्य कार्यकारी अधिकारी

- A) 1 2 4 3 5
B) 2 3 1 4 5
C) 1 3 2 4 5
D) 2 1 3 5 4

129) यदि Sam का अर्थ Ben है, Ben का अर्थ Jam है, Jam का अर्थ Ren है, तो Ben का क्या अर्थ है?

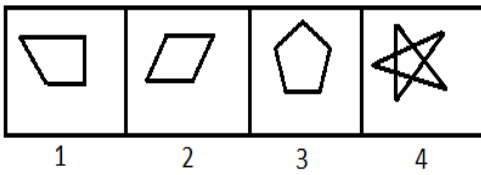
- A) Sam
B) Jam
C) Ren
D) Ben

130) यदि ORDINARY को ROIDANYR के रूप में कूटबद्ध किया जाता है, तो PERFECTION के लिए क्या कोड होगा?

- A) QFSGFDUJPO
B) EPFRCEITNO
C) QFSGUDOPJ
D) EPFRECNTNO

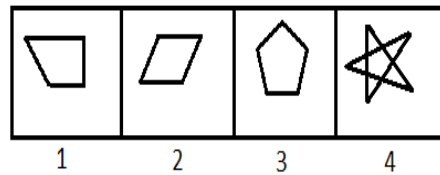
Section 7 - Reasoning Ability

131) Among the given group of 4 images, which set of images can be classified as a group?



- A) (1, 2, 3)
- B) (1, 2, 4)
- C) (1, 3, 4)
- D) (2, 3, 4)

131) दिए गए 4 चित्रों के समूह में से चित्रों के कौन-से सेट को एक समूह के रूप में वर्गीकृत किया जा सकता है?



- A) (1, 2, 3)
- B) (1, 2, 4)
- C) (1, 3, 4)
- D) (2, 3, 4)

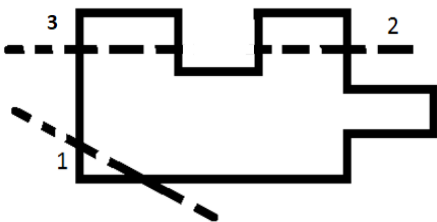
132) Which of these pair of figures CANNOT join together to form a parallelogram?

- A) Two trapeziums
- B) Two parallelograms
- C) Two triangles
- D) Two circles

132) एक समांतर चतुर्भुज बनाने के लिए इनमें से किस आकृति के जोड़े को एकसाथ जोड़ा नहीं जा सकता?

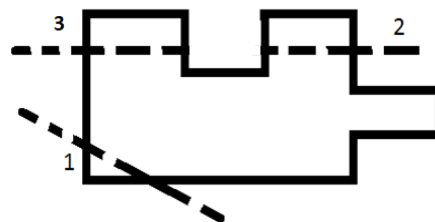
- A) दो समलंब
- B) दो समांतर चतुर्भुज
- C) दो त्रिकोण
- D) दो वृत्त

133) A paper sheet is in the form of a shape given below. It is cut along the given dotted line(s) in the sequence as mentioned. How many edges would the resultant paper sheet have, after the cuts?



- A) 12
- B) 13
- C) 14
- D) 16

133) नीचे एक आकृति के रूप में एक पेपर शीट दी गई है। इसे दिए गए अनुक्रम में बिंदीदार रेखा(ओं) के साथ समानांतर में काटा जाता है। काटे जाने के बाद परिणामी पेपर शीट के कितने किनारे होंगे?



- A) 12
- B) 13
- C) 14
- D) 16

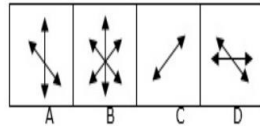
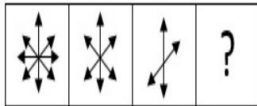
134) Dolly is taller than Chandra and Farah. Anand is shorter than Farah, Chandra is taller than Anand. Dolly is shorter than Bharat. Who among them is 3rd tallest if Chandra's height is 6 cm more than Farah's height?

- A) Farah
- B) Anand
- C) Chandra
- D) Dolly

134) डॉली की ऊँचाई चंद्रा और फराह से ज्यादा है। आनंद की ऊँचाई फराह से कम है, चंद्रा की ऊँचाई आनंद से अधिक है। डॉली की ऊँचाई भरत से कम है। यदि चंद्रा की ऊँचाई फराह की ऊँचाई से 6 सेमी अधिक है, तो इनमें से कौन तीसरा सबसे ऊँचा व्यक्ति है?

- A) फराह
- B) आनंद
- C) चंद्रा
- D) डॉली

135) Identify the figure that completes the visual series.

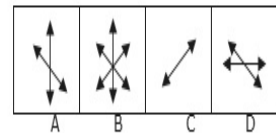
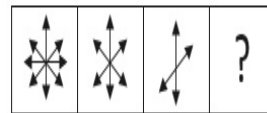


- A) A
- B) B
- C) C
- D) D

136) P is the father of K. J is the niece of X. R is the mother of J. K is the brother of X. P has only two children. Which of these statements is TRUE?

- A) X is the sister-in-law of R
- B) X is the brother of K
- C) P is the father of X
- D) X is the uncle of J

135) दृश्य श्रृंखला को पूरा करने वाली आकृति की पहचान कीजिए।



- A) A
- B) B
- C) C
- D) D

136) P, K का पिता है। J, X की भतीजी है। R, J की मां है। K, X का भाई है। P के केवल दो बच्चे हैं। निम्नलिखित में से कौन सा कथन सही है?

- A) X, R की साली है।
- B) X, K का भाई है।
- C) P, X का पिता है।
- D) X, J का मौसा है।

137) Which of the given option will NOT share the same property as the elements of the given set: (67, 71, 59, 97, 89)?

- A) 47
- B) 43
- C) 37
- D) 39

137) प्रदत्त विकल्पों में से कौन-सा विकल्प दिए गए सेट : (67, 71, 59, 97, 89) के तत्वों जैसी गुण को साझा नहीं करेगा?

- A) 47
- B) 43
- C) 37
- D) 39

138) Two trains running in the same directions cross a man standing on the platform in 15 seconds and 25 seconds respectively and they cross each other in 18 seconds. The ratio of their speeds is

- A) 31 : 2
- B) 43 : 3
- C) 34 : 3
- D) 7 : 3

138) एक ही दिशा में जाती हुई दो ट्रेन प्लेटफॉर्म पर खड़े एक व्यक्ति को क्रमशः 15 सेकेंड और 25 सेकेंड में पार करती हैं और वे एक दूसरे को 18 सेकेंड में पार करती हैं। उनकी गति का अनुपात है

- A) 31 : 2
- B) 43 : 3
- C) 34 : 3
- D) 7 : 3

139) Rohit, Rohan and Rani are three friends standing in a queue to pay their fees in the administrative office. Rohit stands 9th from the beginning of the queue. Rani is 14th from the end. Rohan and Rani have 4 students between them and Rohan and Rohit have 5 students between them. If Rani is in 20th position from the beginning, then Rohan's position from the end of the queue is

- A) 24th
- B) 19th
- C) 18th
- D) 9th

139) रोहित, रोहन और रानी तीन दोस्त प्रशासनिक कार्यालय में अपने फीस के भुगतान के लिए कतार में खड़े हैं। रोहित कतार के आरंभ की 9 वीं जगह पर खड़ा है। रानी अंत से 14 वीं जगह पर है। रोहन और रानी के बीच 4 छात्र हैं और रोहन और रोहित के बीच 5 छात्र हैं। अगर रानी आरंभ से 20 वीं जगह पर है, तो कतार की अंत से रोहन का स्थान है

- A) 24वाँ
- B) 19वाँ
- C) 18वाँ
- D) 9वाँ

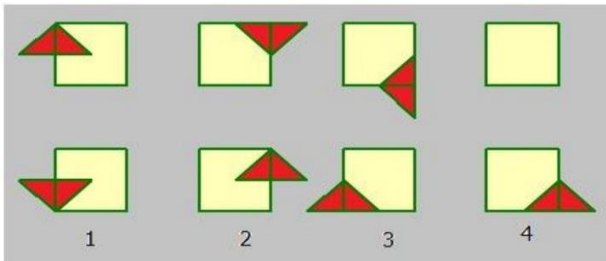
140) Virat scored 150 runs including 11 sixes and 5 boundaries. What percent of the total score did he make by hitting sixes?

- A) 62%
- B) 50%
- C) 44%
- D) 39%

140) 11 छक्के और 5 बाउंडरी सहित विराट ने 150 रन बनाए। छक्के लगाने के बाद उसके कुल स्कोर का प्रतिशत क्या था?

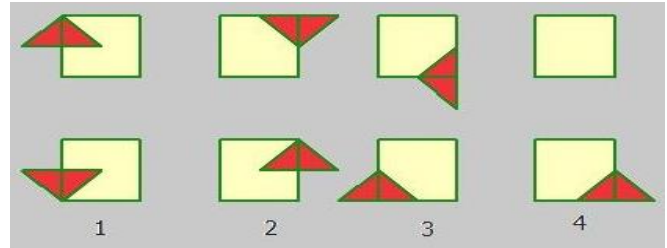
- A) 62%
- B) 50%
- C) 44%
- D) 39%

141) Identify the figure that completes the visual series.



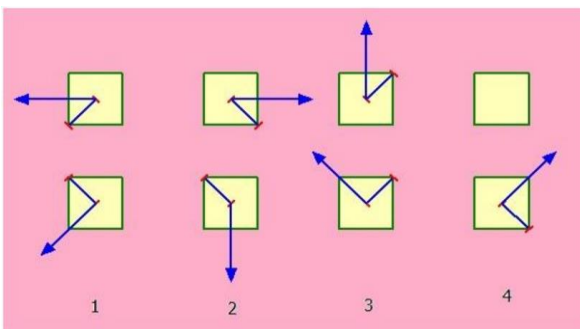
- A) 1
- B) 2
- C) 3
- D) 4

141) दृश्य श्रृंखला को पूरा करने वाली आकृति की पहचान कीजिए।



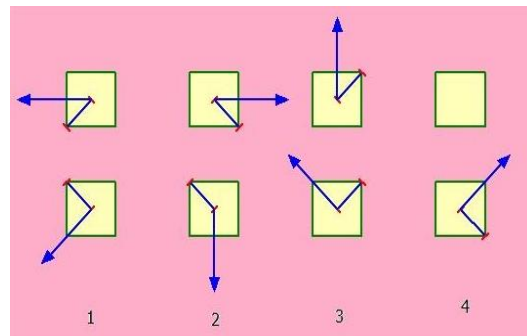
- A) 1
- B) 2
- C) 3
- D) 4

142) Identify the figure that completes the visual series.



- A) 1
- B) 2
- C) 3
- D) 4

142) दृश्य श्रृंखला को पूरा करने वाली आकृति की पहचान कीजिए।



- A) 1
- B) 2
- C) 3
- D) 4

143) A dice is taken. Numbers from 1 to 6 are written on its faces. The faces with numbers 1 and 4 are adjacent to each other. Number 6 is on the face opposite to the face with number 3. Number 2 is not on the face opposite to face with number 4. Which of these numbers would be opposite to number 2?

- A) 1
- B) 4
- C) 5
- D) 3

143) एक पासा लिया गया है। 1 से 6 तक की संख्याएँ उसके फलकों पर लिखी जाती हैं। संख्या 1 और 4 वाले फलक एक-दूसरे के सन्निकट हैं। संख्या 6 वाला फलक संख्या 3 वाले फलक के विपरीत में है। संख्या 2, संख्या 4 वाले फलक के विपरीत नहीं है। इन संख्याओं में से कौन-सी संख्या 2 के विपरीत हो सकती है?

- A) 1
- B) 4
- C) 5
- D) 3

144) Select one of the following four options that will make the second pair analogous to the first pair.

PARROT : GREEN :: CROW : ?

- A) YELLOW
- B) RED
- C) BLACK
- D) WHITE

144) निम्नलिखित चार विकल्पों में से उसका चयन कीजिए जो दूसरी जोड़ी को पहली जोड़ी के अनुरूप बनाएगा।

तोता : हरा :: कौआ : ?

- A) पीला
- B) लाल
- C) काला
- D) सफेद

145) Select one of the following four options that will make the second pair analogous to the first pair.

Library : Books :: School : ?

- A) Newspapers
- B) Students
- C) Buildings
- D) Laboratory

145) निम्नलिखित चार विकल्पों में से उसका चयन कीजिए जो दूसरी जोड़ी को पहली जोड़ी के अनुरूप बनाएगा।

पुस्तकालय : पुस्तकें :: विद्यालय : ?

- A) समाचार पत्र
- B) छात्र
- C) इमारतें
- D) प्रयोगशाला

146) Ruby knows that her father's age is more than 55 years but less than 57 years. Ruby's mother remembers that her husband's age is more than 57 years but less than 60 years. Rohan, who is Ruby's elder brother knows that his father's age is more than 58 years but less than 64 years. If only Ruby's mother and brother know it right, then what is the age of Ruby's father in years?

- A) 59
- B) 58
- C) 57
- D) 55

146) रूबी जानती है कि उसके पिता की उम्र 55 से अधिक है, लेकिन 57 वर्ष से कम है। रूबी की माँ को याद है कि उसके पति की उम्र 57 से अधिक है, लेकिन 60 वर्ष से कम है। रोहन, जो रूबी का बड़ा भाई है, जानता है कि उसके पिता की उम्र 58 से अधिक है, लेकिन 64 वर्ष से कम है। अगर केवल रूबी की माँ और भाई को सही पता है, तो रूबी के पिता कितने साल के हैं?

- A) 59
- B) 58
- C) 57
- D) 55

147) Which number replaces the question mark (?) in the series given below?

2, 1, 0, -3, -24, ?

- A) -264
- B) -267
- C) -270
- D) -273

147) नीचे दी गई श्रृंखला में प्रश्न चिन्ह (?) की जगह कौन सी संख्या है?

2, 1, 0, -3, -24, ?

- A) -264
- B) -267
- C) -270
- D) -273

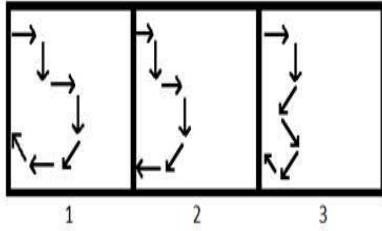
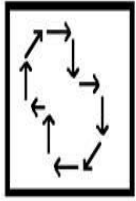
148) Three out of the four options are similar based on the position of alphabets. Find the odd one out.

- A) TUF
- B) YZA
- C) WVJ
- D) OPK

148) वर्णमाला में स्थान के आधार पर, दिए गए चार विकल्पों में से तीन एक जैसे हैं। विषम विकल्प को चुनिए।

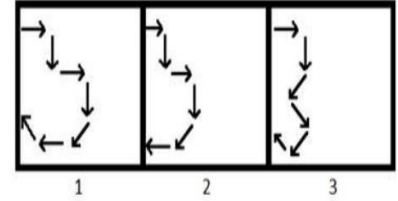
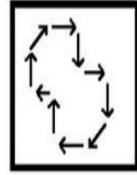
- A) TUF
- B) YZA
- C) WVJ
- D) OPK

149) A figure is given on the left with a pattern. Observe and find which of the three images on the right looks similar to the right half of this pattern?



- A) 1
B) 2
C) 3
D) Both 2 and 3

149) बायीं ओर एक पैटर्न के साथ एक आकृति दी गई है। ध्यानपूर्वक देखिए और बताइए कि दायीं ओर के तीन चित्रों में से कौन इस पैटर्न के दाएँ अर्द्ध हिस्से के समान दिखाई पड़ता है?



- A) 1
B) 2
C) 3
D) 2 और 3 दोनों

150) Sachin's age 5 years ago was $\frac{1}{2}$ of his age 10 years hence. What is the present age of Sachin?

- A) 36 years
B) 25 years
C) 20 years
D) 15 years

150) 5 साल पहले सचिन की उम्र 10 साल बाद होनेवाली उम्र की $\frac{1}{2}$ थी। वर्तमान में सचिन की उम्र कितनी है?

- A) 36 साल
B) 25 साल
C) 20 साल
D) 15 साल